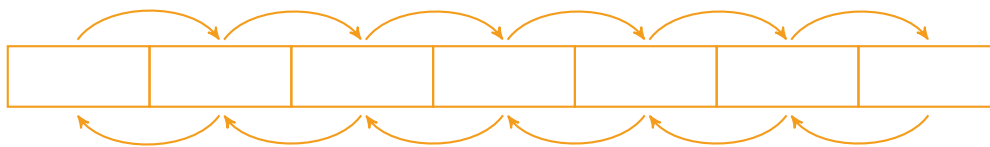




EX 1

Compléter le tableau avec les unités de longueurs et les relations entre chaque unité.



EX 2

Conversions de longueurs - Niveau 1

1. 20 dam = m

2. 90 km = m

3. 500 dam = m

4. 68 dam = m

5. 99 hm = m

6. 6 dam = m

7. 72 hm = m

8. 9 km = m

EX 3

Conversions de longueurs - Niveau 2

1. 83 cm = m

2. 10 mm = m

3. 13 cm = m

4. 700 dm = m

5. 20 mm = m

6. 37 cm = m

7. 4 dm = m

8. 86 dm = m

EX 4

Conversions de longueurs - Niveau 3

1. 15,3 dam = m

2. 18,9 dm = mm

3. 0,04 dm = m

4. 2,74 cm = dm

5. 0,03 m = dam

6. 4,6 m = dam

7. 0,06 dam = dm

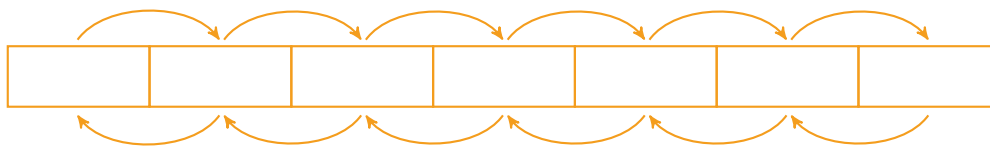
8. 6,78 cm = dm





EX 1

Compléter le tableau avec les unités de longueurs et les relations entre chaque unité.



EX 2

Conversions de longueurs - Niveau 1

1. 9 hm = m

2. 7 hm = m

3. 300 km = m

4. 69 hm = m

5. 4 hm = m

6. 40 km = m

7. 30 km = m

8. 80 km = m

EX 3

Conversions de longueurs - Niveau 2

1. 300 mm = m

2. 7 dm = m

3. 6 cm = m

4. 57 mm = m

5. 200 cm = m

6. 10 cm = m

7. 20 mm = m

8. 10 dm = m

EX 4

Conversions de longueurs - Niveau 3

1. 0,4 dm = cm

2. 0,01 cm = dm

3. 0,1 dm = m

4. 1,86 dm = m

5. 9,6 dm = cm

6. 0,9 cm = mm

7. 0,3 m = cm

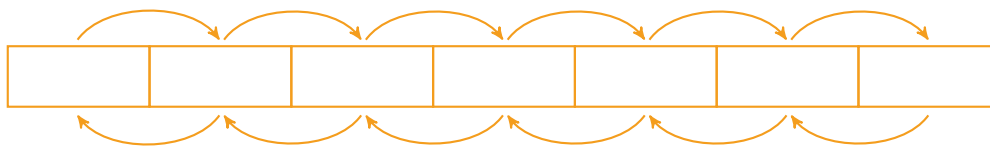
8. 0,05 m = cm





EX 1

Compléter le tableau avec les unités de longueurs et les relations entre chaque unité.



EX 2

Conversions de longueurs - Niveau 1

1. $400 \text{ km} = \dots\dots\dots \text{ m}$

2. $9 \text{ hm} = \dots\dots\dots \text{ m}$

3. $40 \text{ hm} = \dots\dots\dots \text{ m}$

4. $3 \text{ dam} = \dots\dots\dots \text{ m}$

5. $29 \text{ dam} = \dots\dots\dots \text{ m}$

6. $50 \text{ km} = \dots\dots\dots \text{ m}$

7. $800 \text{ km} = \dots\dots\dots \text{ m}$

8. $700 \text{ km} = \dots\dots\dots \text{ m}$

EX 3

Conversions de longueurs - Niveau 2

1. $7 \text{ cm} = \dots\dots\dots \text{ m}$

2. $4 \text{ cm} = \dots\dots\dots \text{ m}$

3. $2 \text{ mm} = \dots\dots\dots \text{ m}$

4. $80 \text{ mm} = \dots\dots\dots \text{ m}$

5. $72 \text{ mm} = \dots\dots\dots \text{ m}$

6. $70 \text{ cm} = \dots\dots\dots \text{ m}$

7. $8 \text{ mm} = \dots\dots\dots \text{ m}$

8. $10 \text{ mm} = \dots\dots\dots \text{ m}$

EX 4

Conversions de longueurs - Niveau 3

1. $0,02 \text{ cm} = \dots\dots\dots \text{ dm}$

2. $0,5 \text{ cm} = \dots\dots\dots \text{ dm}$

3. $0,07 \text{ m} = \dots\dots\dots \text{ dm}$

4. $5,2 \text{ dm} = \dots\dots\dots \text{ dam}$

5. $0,4 \text{ m} = \dots\dots\dots \text{ cm}$

6. $1,7 \text{ m} = \dots\dots\dots \text{ dam}$

7. $0,07 \text{ dm} = \dots\dots\dots \text{ dam}$

8. $0,8 \text{ dm} = \dots\dots\dots \text{ mm}$

